

UNIDAD 1. EL MEDIO NATURAL ESPAÑOL: DIVERSIDAD GEOMORFOLÓGICA E HÍDRICA.

A la vista del mapa adjunto, “*Segmento: Unidades del relieve peninsular*”, indique el nombre de las provincias “atravesadas” por el mismo; señale las principales unidades del relieve y escriba lo que sepa sobre su caracterización general.

Puntuación máxima: 2 puntos.

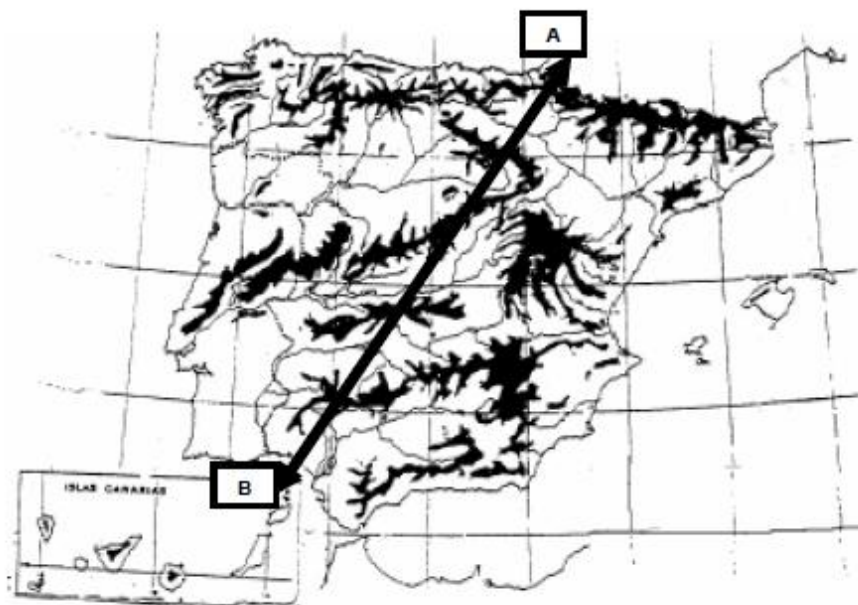


PRUEBA DE ACCESO A ESTUDIOS UNIVERSITARIOS DE MADRID, 2006-2007

A la vista del mapa adjunto que recoge las *Unidades del relieve peninsular*, identifique, de NE a SW, diez unidades de relieve cortadas por el transepto A-B, e indique la litología predominante y formas de relieve características de los Pirineos.

Puntuación máxima: 2 puntos.

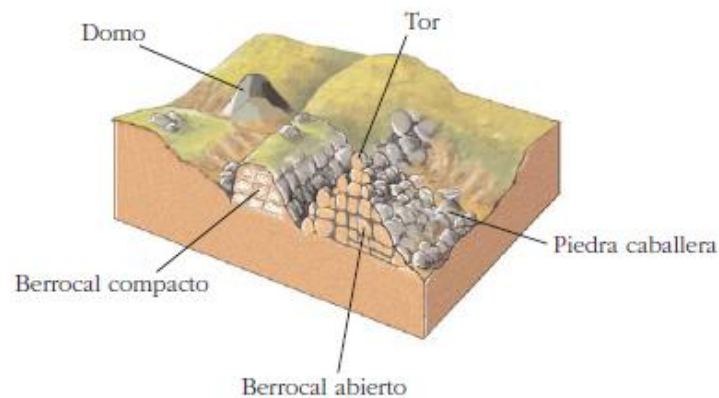
Unidades del relieve peninsular



PRUEBA DE ACCESO A ESTUDIOS UNIVERSITARIOS DE MADRID, 2008-2009

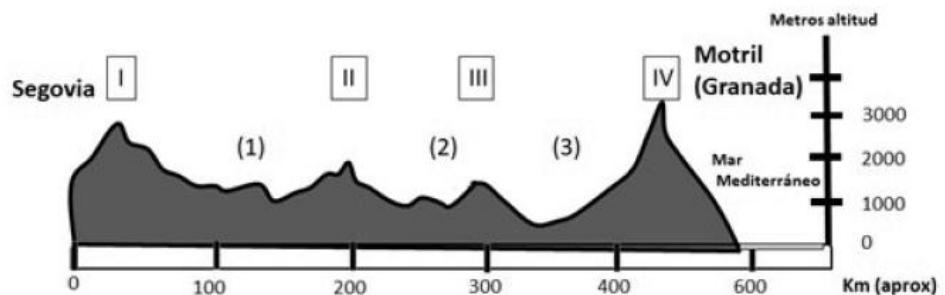
A partir de la observación del bloque-diagrama comenta: el tipo de relieve representado, su origen, las formas del relieve representadas y el nombre de alguna provincia o Comunidad Autónoma donde exista este relieve

Formación de un berrocal

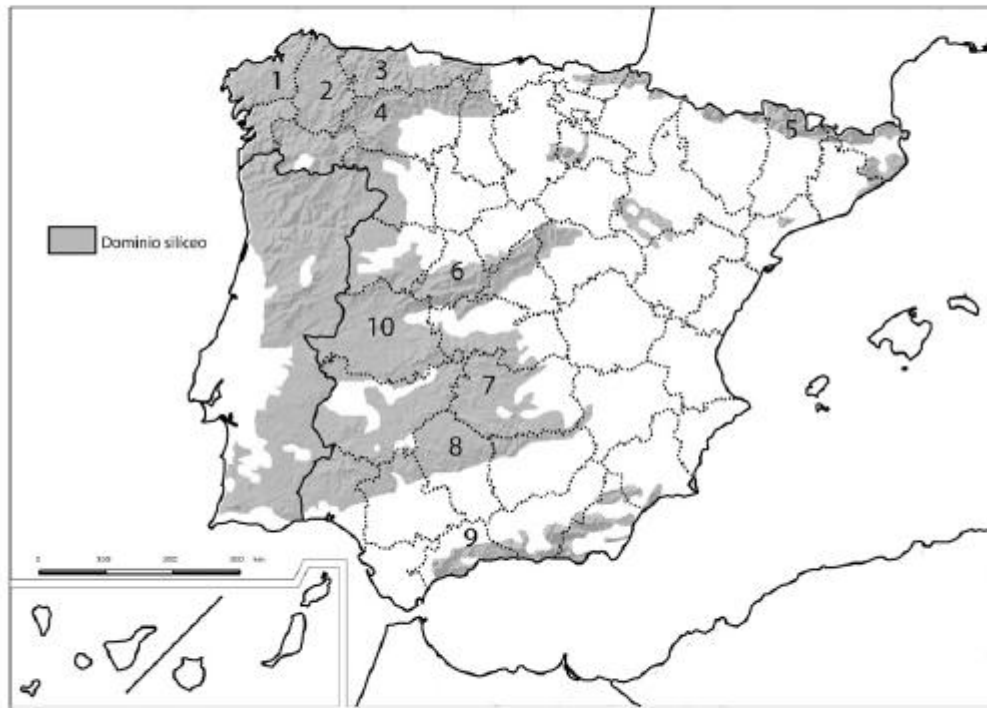


4ª Parte: Comente el siguiente perfil entre Segovia y Motril (Granada), señalando el nombre y los principales rasgos geológicos que caracterizan los sistemas montañosos I, II, III, y IV, y las cuencas hidrográficas 1,2 y 3.

PERFIL TOPOGRÁFICO ESQUEMÁTICO SEGOVIA – MOTRIL (GRANADA)



B.4. (2,5 puntos): A la vista del mapa adjunto “La España silicea”, describa brevemente sus características generales e identifique las unidades del relieve sombreadas. Indique el nombre de las provincias numeradas.



Fuente: IGN (modificado).

B.4. (2,5 puntos): A la vista del mapa adjunto “La España arcillosa”, describa brevemente sus características generales e indique el nombre de las provincias numeradas.



Fuente: IGN (modificado).

A.4. (2,5 puntos): A la vista del mapa adjunto “**Mapa de formaciones arboladas. Hayedos**”, indique, el nombre de las provincias numeradas y señale las posibles causas de esta distribución.



Fuente: Mapa Forestal de España (MFE50) 1997-2006.



Puyarruego (Huesca)



Vélez de Benaudalla (Granada)




Los Llanos de Aridane, La Palma (provincia de Santa Cruz de Tenerife)




Chantada (Lugo)

FOTOGRAFIA



Nigüelas (Granada)



Zarauz/Zarautz (Guipúzcoa/Gipuzkoa)



Trevélez (Granada)

5ª Parte: A la vista del “Mapa Provincial” indique las provincias tramadas y señale las unidades de relieve que forman parte del área definida.

