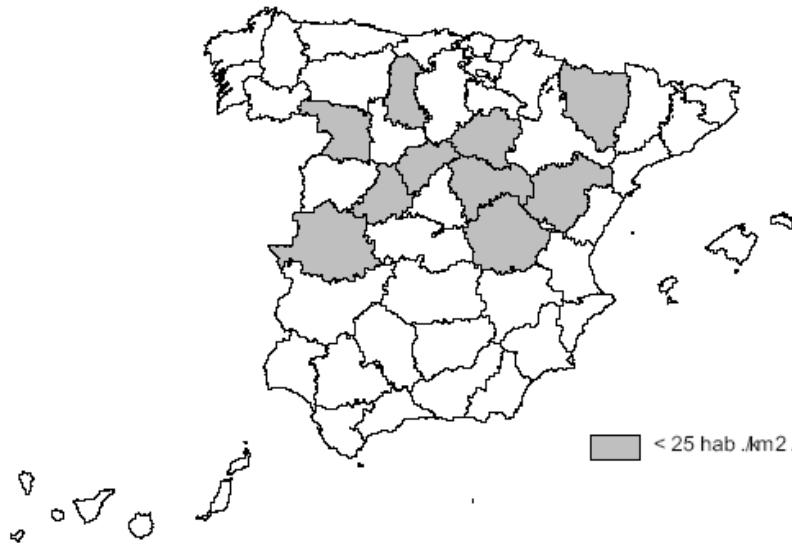


UNIDAD 4: LA POBLACIÓN ESPAÑOLA.

A la vista del mapa adjunto, “*Provincias con menos de 25 habitantes por km², en 2005*”, indique el nombre de las provincias “tramadas” pertenecientes a dicha categoría; señale las razones que explican esta distribución y comente algunas consecuencias emanadas de este hecho.

Puntuación máxima: 2 puntos.



Comentario del gráfico adjunto: Realice un comentario del presente gráfico, atendiendo, al menos, a los siguientes aspectos:

- La dinámica de la estructura poblacional en España, desde la perspectiva de su pertenencia al ámbito urbano o rural.
- Explique su evolución, señalando algunas consecuencias emanadas de este hecho.

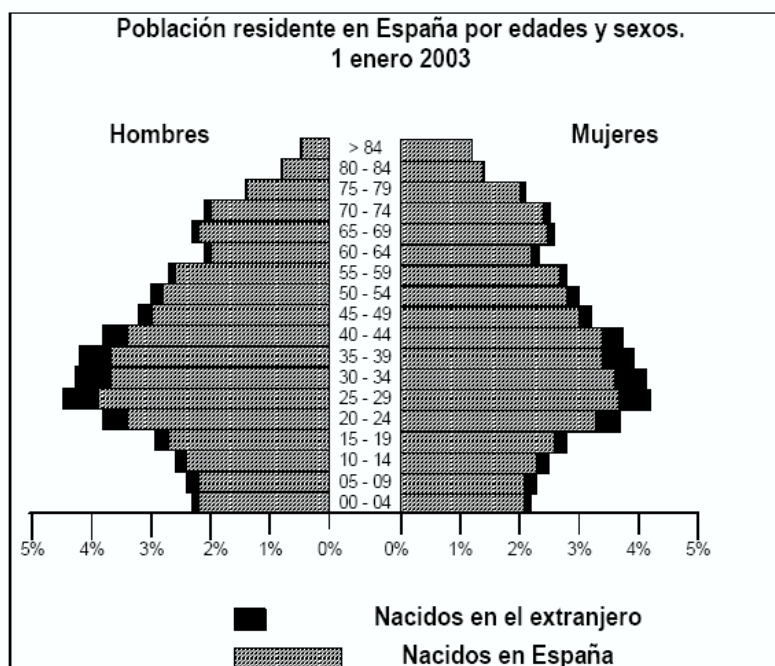
Puntuación máxima: 2,5 puntos.



Comentario del gráfico adjunto:

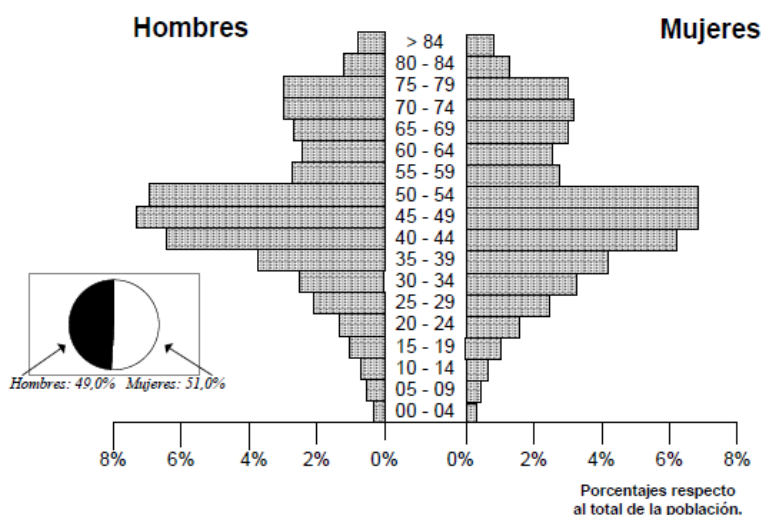
Interprete la presente **pirámide de población**, haciendo especial hincapié en el papel desempeñado por los actuales movimientos migratorios.

Puntuación máxima: 2,5 puntos.



Nota: La información se desglosa en nacidos en España y nacidos en el extranjero, por lo que los nacidos en España de madre extranjera están incluidos en el primer grupo y no en el segundo.

**Población extranjera empadronada en España y nacida en Alemania
por edades y sexos.
1 enero 2017**



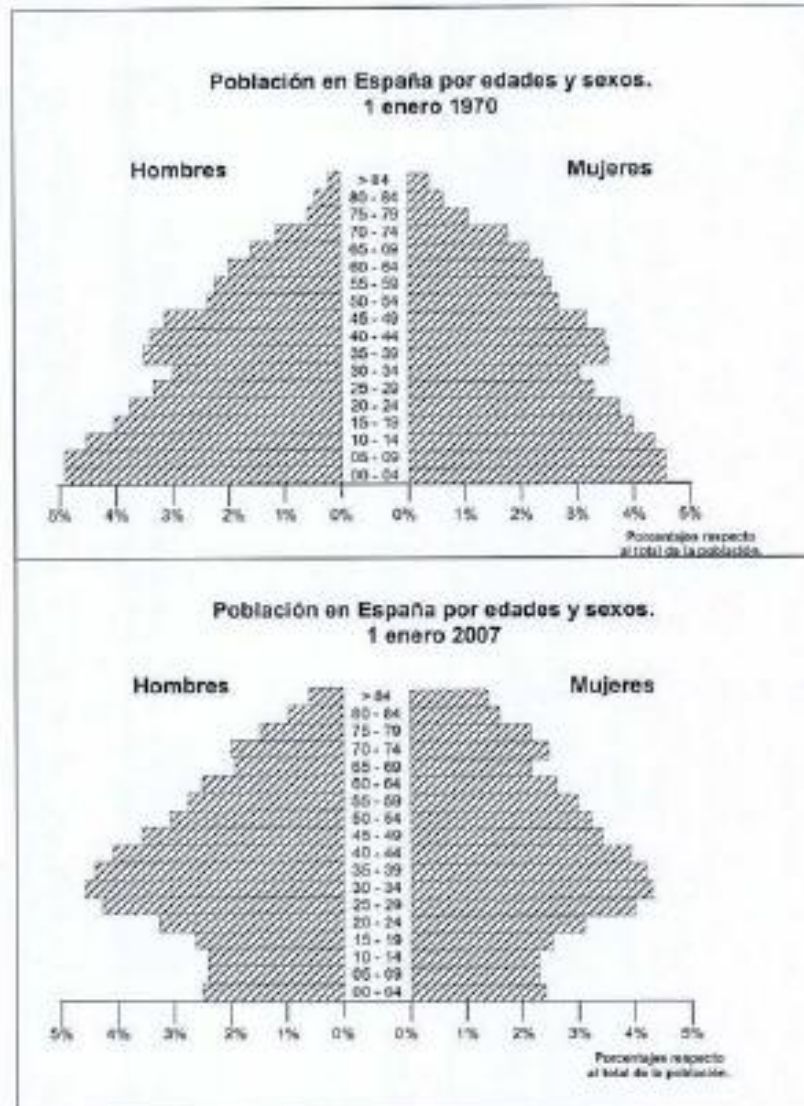
Fuente; INE, 2017

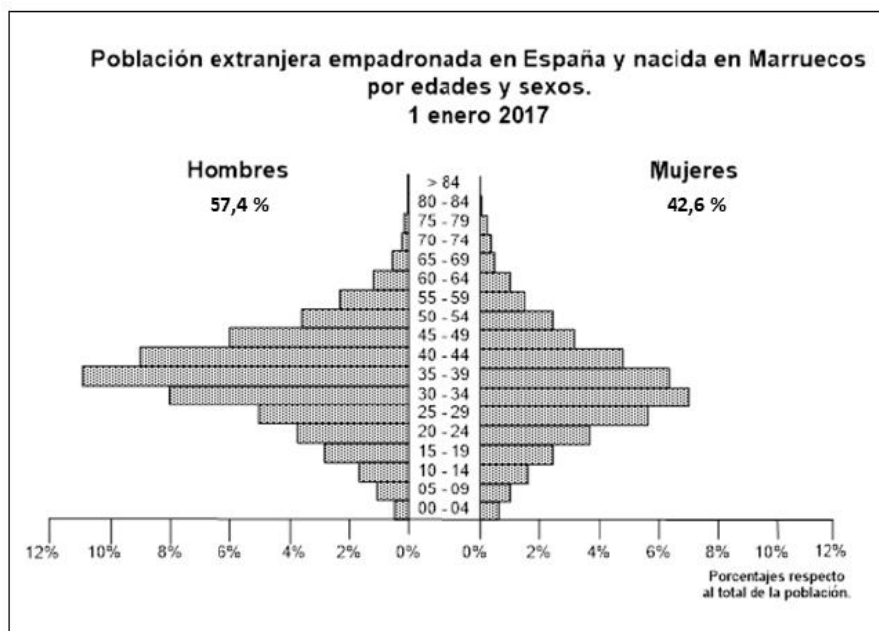
Puntuación máxima: 2 Puntos

Comentario del gráfico: Realice un comentario de las pirámides adjuntas, atendiendo, al menos, a los siguientes aspectos:

- Interpretación individualizada de cada una de ellas.
- Cambios en la estructura de la población, por edad y sexo.
- Compare las dos pirámides.

Puntuación máxima: 2,5 puntos.





Fuente: INEBASE.

Puntuación máxima: 2 Puntos

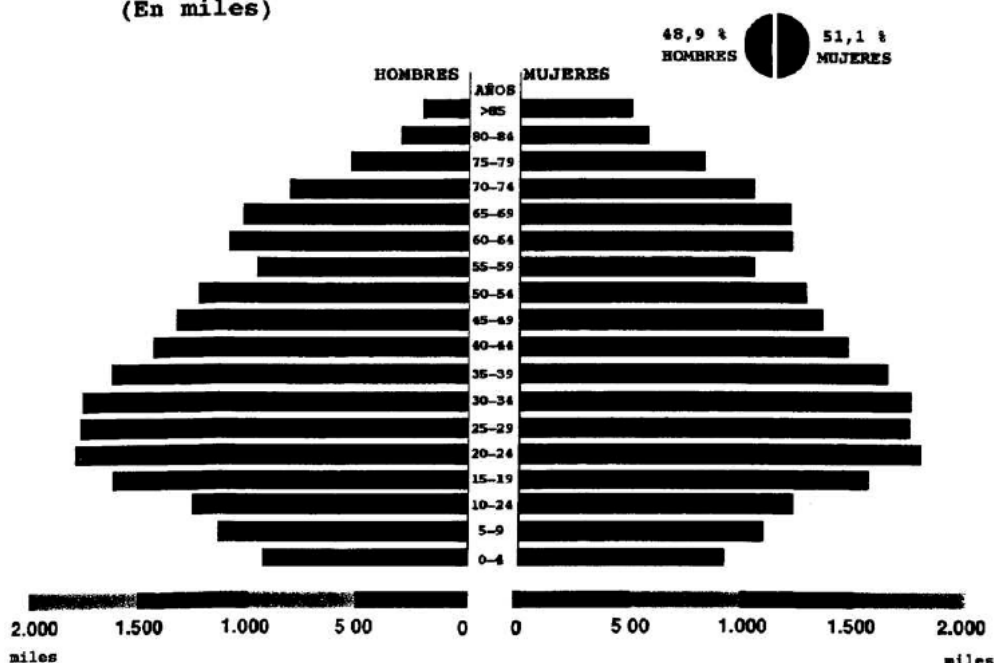
Comentario del gráfico adjunto:

Realice un comentario de la pirámide de edades correspondiente a la **estructura de la población española en 1998**, atendiendo al menos a los siguientes aspectos:

- Descripción y características.
- Aspectos históricos, sociológicos y económicos que explican esta estructura.
- Consecuencias demográficas y económicas de la situación descrita.

Puntuación máxima: 2,5 puntos.

**ESTRUCTURA DE LA POBLACIÓN ESPAÑOLA, 1998
(En miles)**



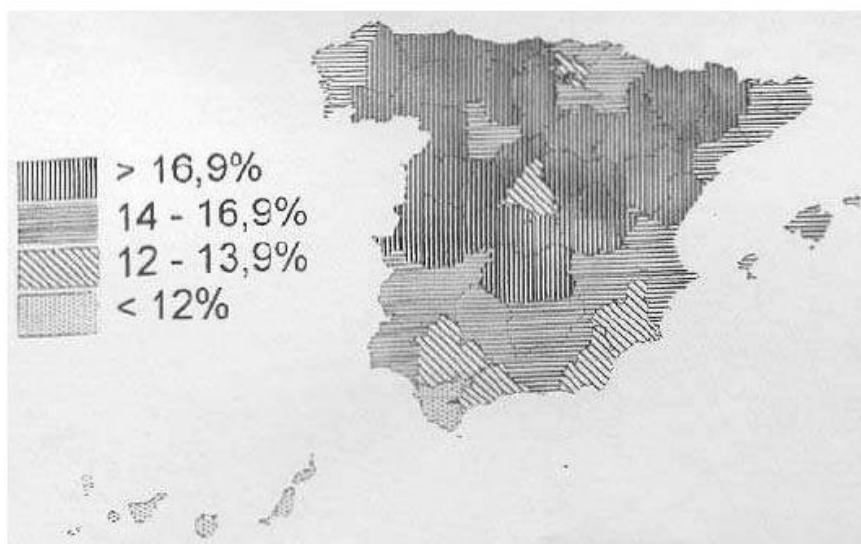
A la vista del mapa adjunto, *“Provincias con natalidad inferior al 8 por mil, en el año 2002”*, indique el nombre de las provincias “tramadas”, pertenecientes a dicha categoría, cartografiadas en el mapa, señale las razones que explican esta distribución y comente algunas consecuencias emanadas de este hecho.

Puntuación máxima: 2 puntos



1.2. A la vista del mapa adjunto, *“Porcentaje de población mayor de 65 años en España”* (año 2000), indique que provincias tienen menos del 14 %, así como las causas que explican este hecho y las consecuencias derivadas del mismo.

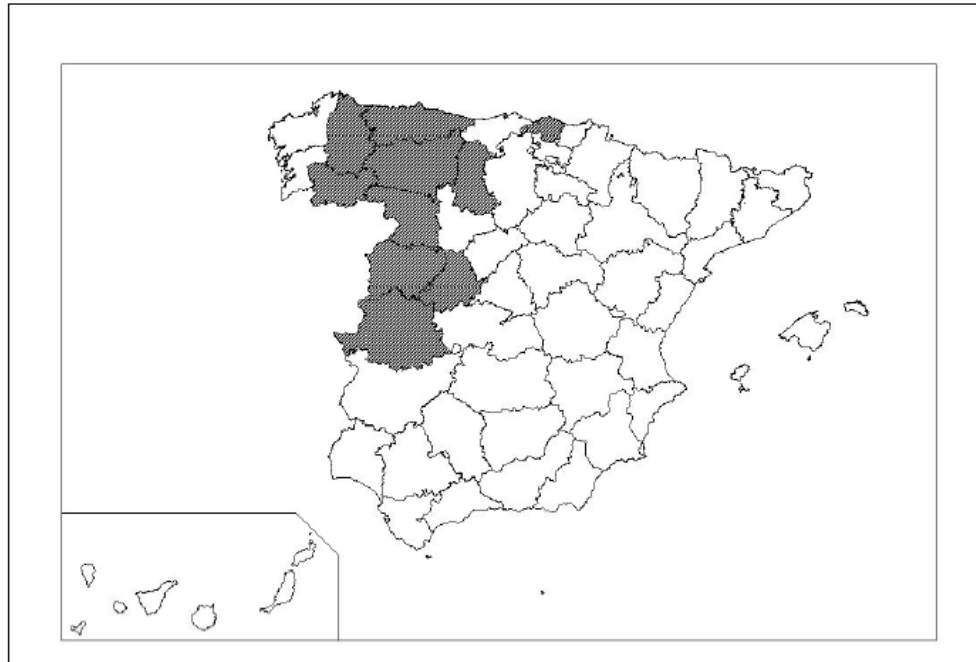
Puntuación máxima: 2 puntos.



A la vista del mapa adjunto, que recoge las *Provincias que han perdido más población en el período 1996-2006*, indique el nombre de las mismas; señale las razones que explican esta distribución y comente algunas consecuencias emanadas de este hecho.

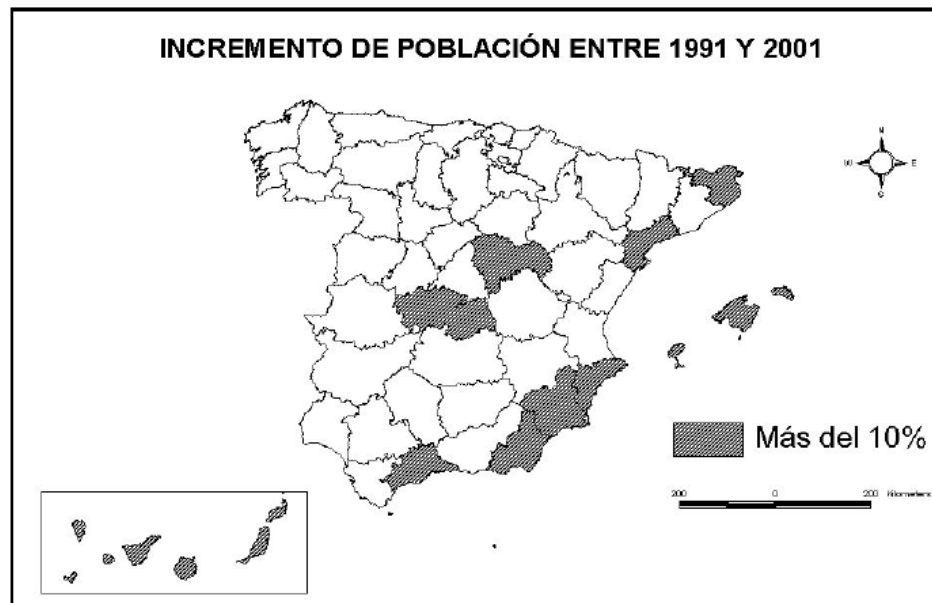
Puntuación máxima: 2 puntos.

Provincias que han perdido más población en el periodo 1996-2006



1.2. A la vista del mapa adjunto, “*Provincias con un incremento de población entre 1991 y 2001 superior al 10%*”, indique el nombre de las provincias pertenecientes a dicha categoría, que aparecen cartografiadas en el mapa, y comente las razones que explican dicho incremento.

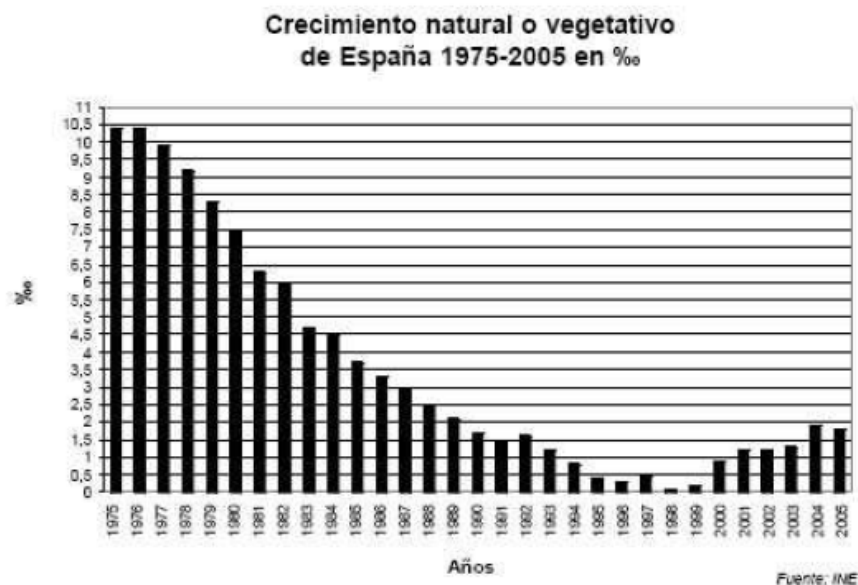
Puntuación máxima: 2 puntos.



Comente el gráfico adjunto, “*Crecimiento natural o vegetativo de España, 1975-2005 (en ‰)*”, atendiendo al menos a:

- Evolución del crecimiento natural en los últimos treinta años.
- Razones de esta evolución.
- Consecuencias acaecidas y previsibles.
- Relaciónelo con los movimientos migratorios e inmigratorios.

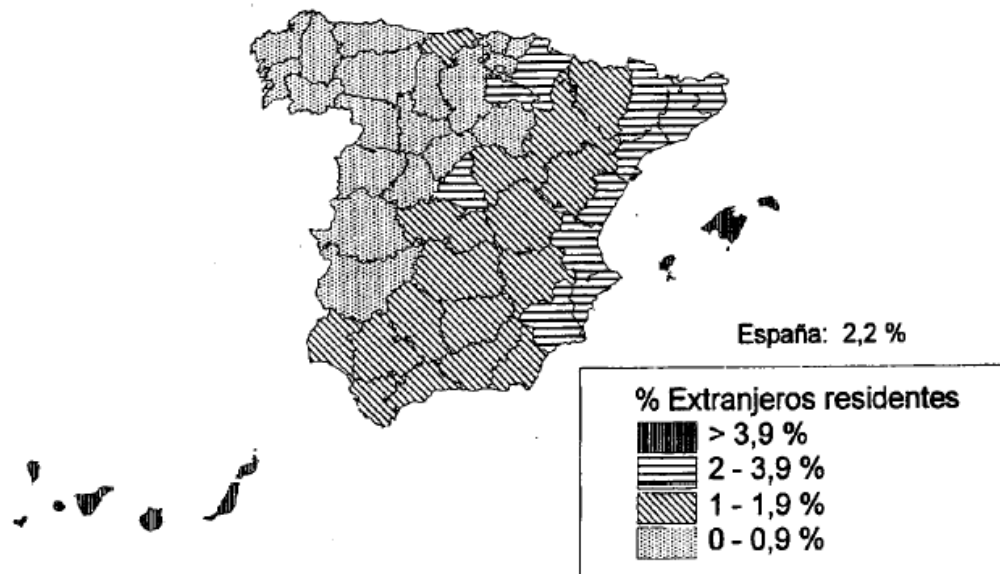
Puntuación máxima: 2,5 puntos.



- 1.2. A la vista del mapa adjunto, sobre el **“Porcentaje de extranjeros residentes 2000”**, indique las provincias con índices iguales o superiores al 2%, así como las principales razones que explican esa localización.

Puntuación máxima: 2 puntos

Porcentaje de extranjeros residentes respecto a la población residente.



A la vista del mapa adjunto, **“Provincias con una tasa de paro superior al 10,5%, en 2006”**, indique el nombre de las provincias “tramadas” pertenecientes a dicha categoría; señale las razones que explican esta distribución y comente algunas consecuencias emanadas de este hecho.

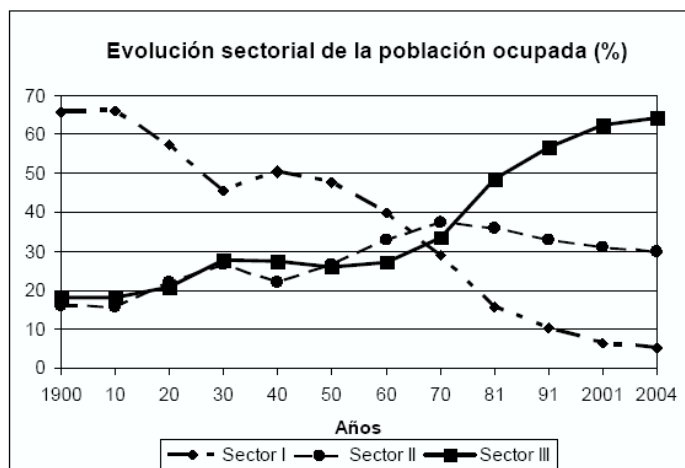
Puntuación máxima: 2 puntos.



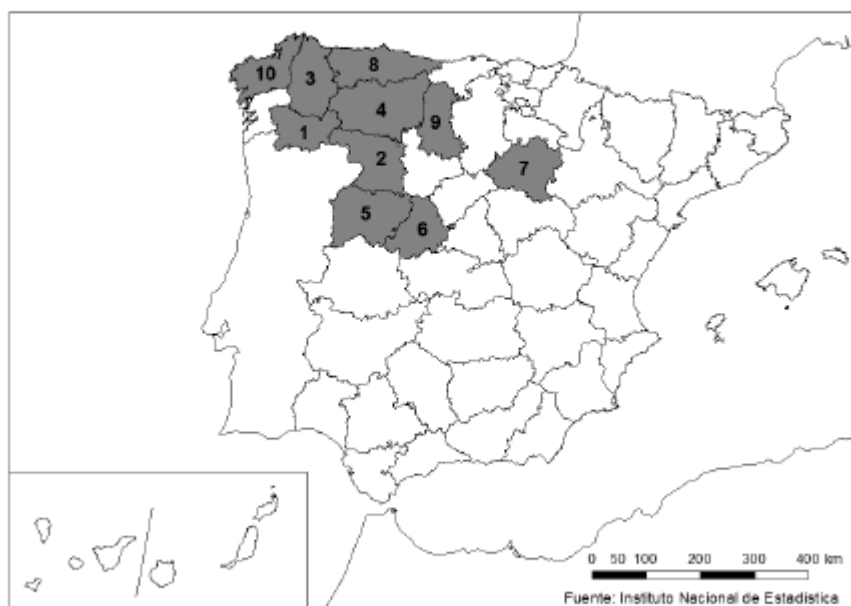
Comente el gráfico adjunto, “Evolución sectorial de la población ocupada.1900-2004”, atendiendo al menos a los siguientes aspectos:

- Aspectos más significativos de esta evolución.
- Factores explicativos.

Puntuación máxima: 2,5 puntos.



5ª Parte: A la vista del mapa “Provincias con más de un 24,5% de población mayor de 65 años (2018)” indique las provincias numeradas y explique posibles causas de esta distribución.



Puntuación máxima: 2 Puntos

Tema: “La distribución espacial de la población en España”.

Desarrolle, de manera sintética, el tema propuesto (utilice, como máximo, ambas caras de un folio), atendiendo al menos a los siguientes aspectos:

- Principales caracteres de la distribución espacial de la población.
- Áreas de alta densidad y áreas semidespobladas.
- Causas que explican esta distribución.
- Consecuencias que se derivan de la misma.

Puntuación máxima: 4 puntos.

Tema: “**Los movimientos migratorios exteriores en España**”.

Desarrolle, de manera sintética, el tema propuesto (utilice, como máximo, ambas caras de un folio), atendiendo al menos a:

- Evolución histórica.
- Factores que los explican.
- Consecuencias y cambios recientes.

Puntuación máxima: 4 puntos.

Tema: “**La estructura demográfica de la población española**”.

Desarrolle, de manera sintética, el tema propuesto (utilice, como máximo, ambas caras de un folio), atendiendo, al menos, a los siguientes puntos:

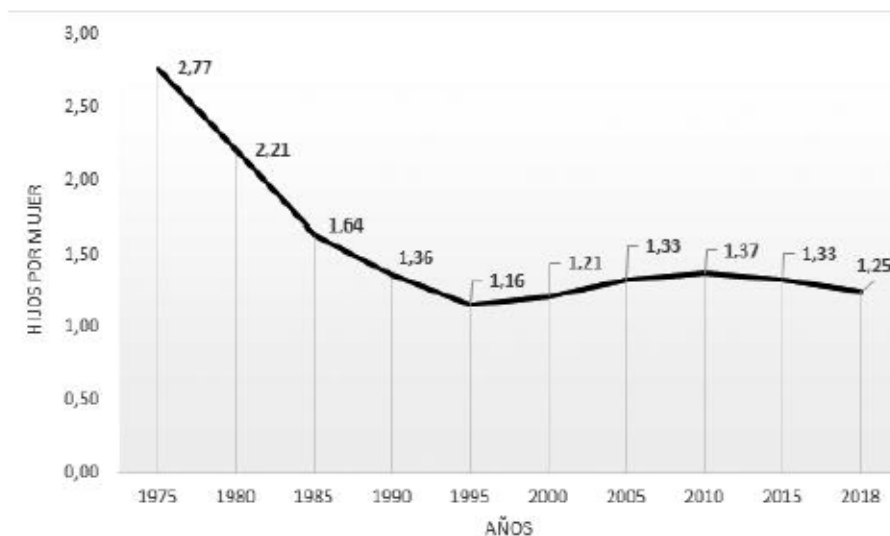
- Evolución histórica y situación actual.
- Factores que han incidido en el proceso de cambio.
- Consecuencias demográficas y socioeconómicas.
- El futuro de la población española.

Puntuación máxima: 4 puntos

A.3. (2,5 puntos). Comente y relacione la noticia con el gráfico adjunto “Evolución de la tasa bruta de fecundidad”. Indique las posibles razones de esta evolución, y las posibles consecuencias para la población del país.

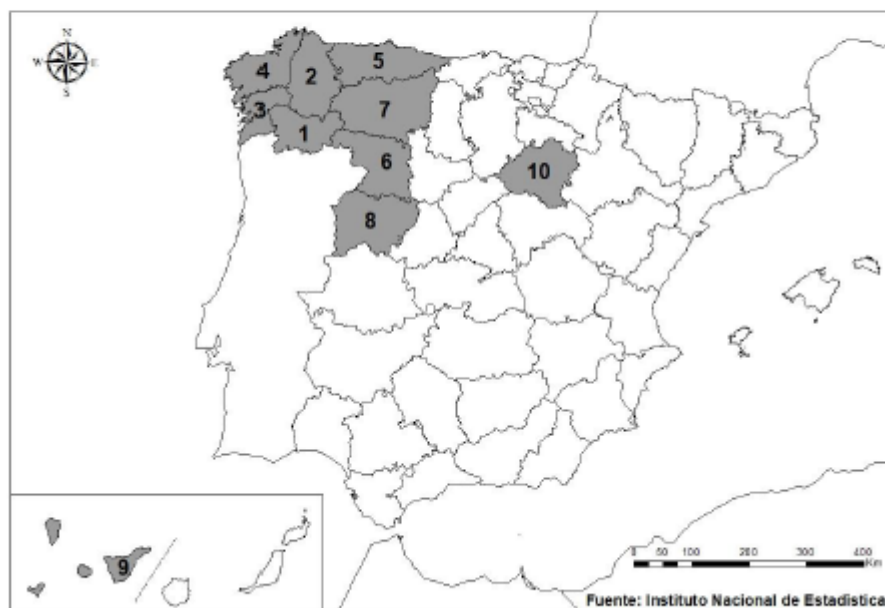
Los nacimientos caen casi un 30% en España en la última década. Fuente: María Sosa Troya, El País, 19 junio 2019.

“En una sola década, los nacimientos han caído casi un 30% en España. Ha disminuido el número de hijos por mujer y se ha retrasado la edad de la maternidad hasta el punto de que ha aumentado un 63% el número de madres con 40 años o más. El panorama de la fecundidad es desolador. El año pasado hubo un saldo negativo entre nacimientos y muertes, algo que también ocurrió en 2015 y 2017. Este país envejecido tiene cada vez más ancianos y menos niños” [...].

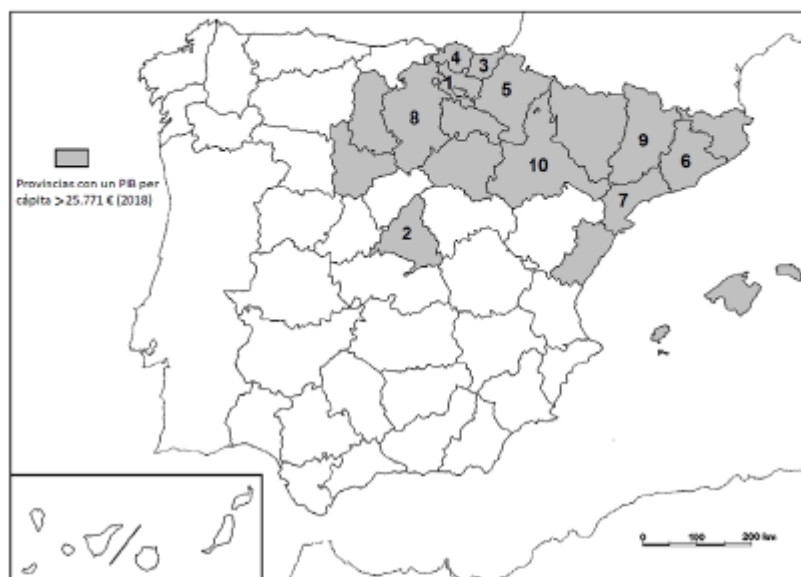


Fuente: INE

A.4 (2,5 puntos). A la vista del mapa adjunto “Provincias con más del 9% de personas residentes en el extranjero en 2020”, indique el nombre de las provincias numeradas y explique las posibles razones y el significado demográfico que pueda tener esta distribución (media española 6,32 %).



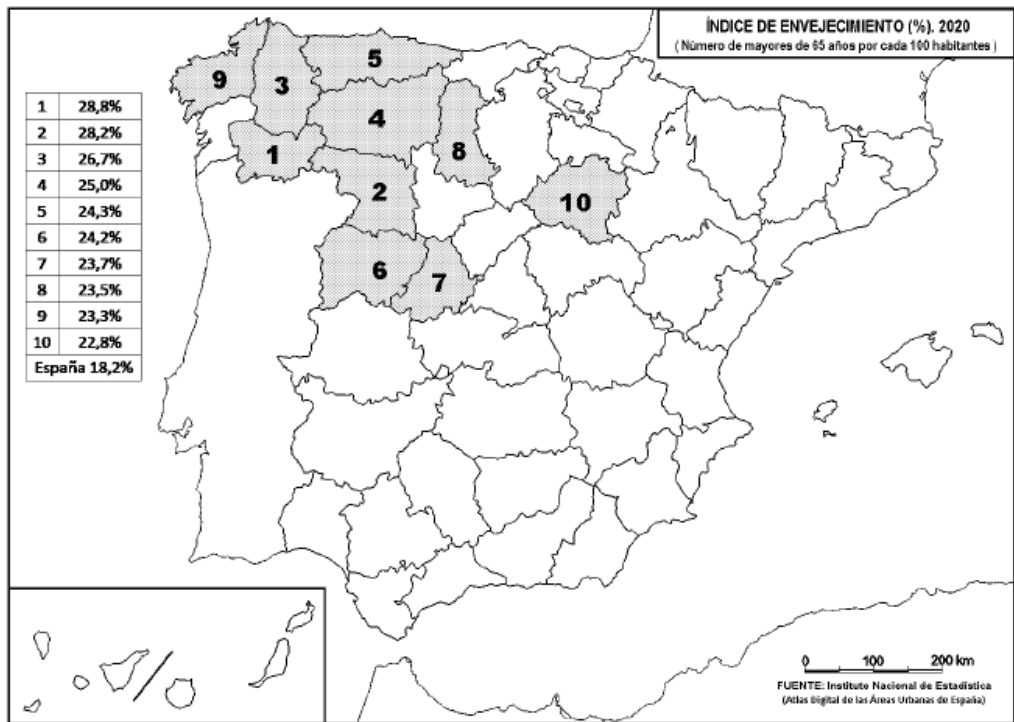
A.4. (2,5 puntos): A la vista del mapa adjunto “Provincias con un PIB per cápita superior a 25.771 euros, (2018)”, indique el nombre de las provincias numeradas y señale las posibles causas de esta distribución.



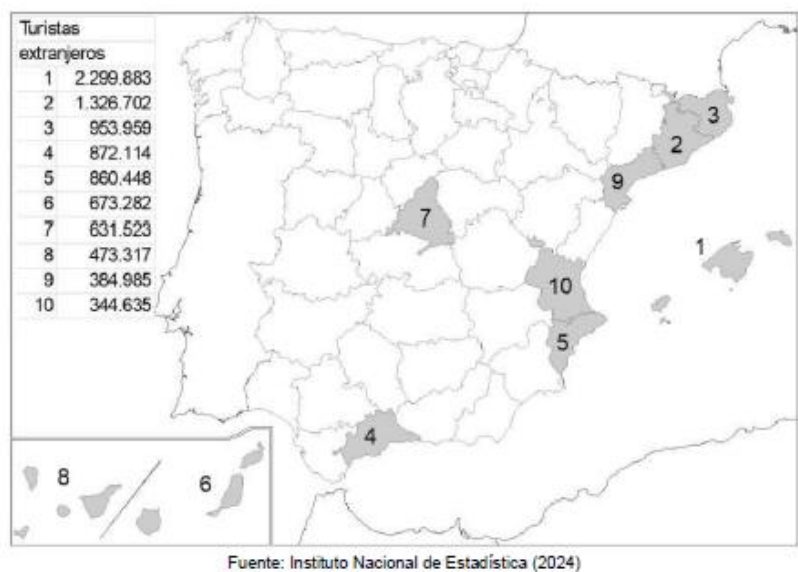
Provincia	PIB (2018) € /per cápita
1	36.404
2	35.091
3	33.851
4	31.792
5	31.026
6	30.947
7	30.810
8	29.571
9	28.456
10	28.386

Fuente: INE (2018).

B.4. (2,5 puntos): A la vista del mapa adjunto: “Índice de envejecimiento por cada 100.000 habitantes (2020)”, indique el nombre de las provincias numeradas y las posibles causas de esta distribución.



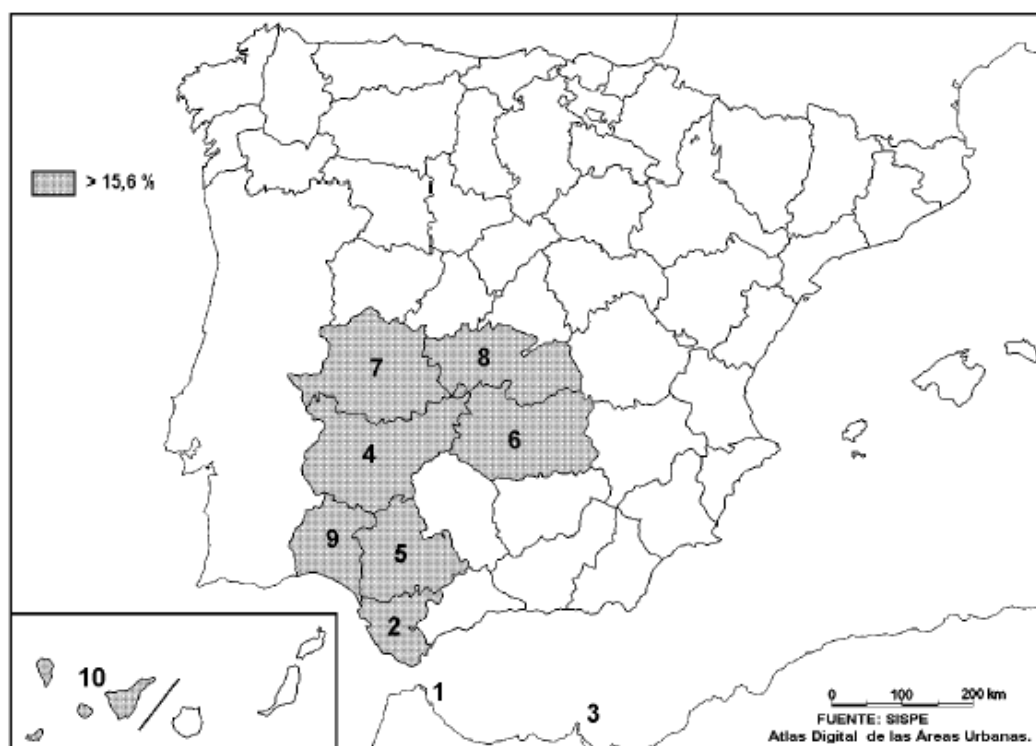
Mapa 2. “Provincias con mayor número de turistas extranjeros en agosto de 2024”. Indique el nombre de las provincias numeradas y señale las posibles causas y qué consecuencias sociales y económicas se derivan de la distribución de este hecho.



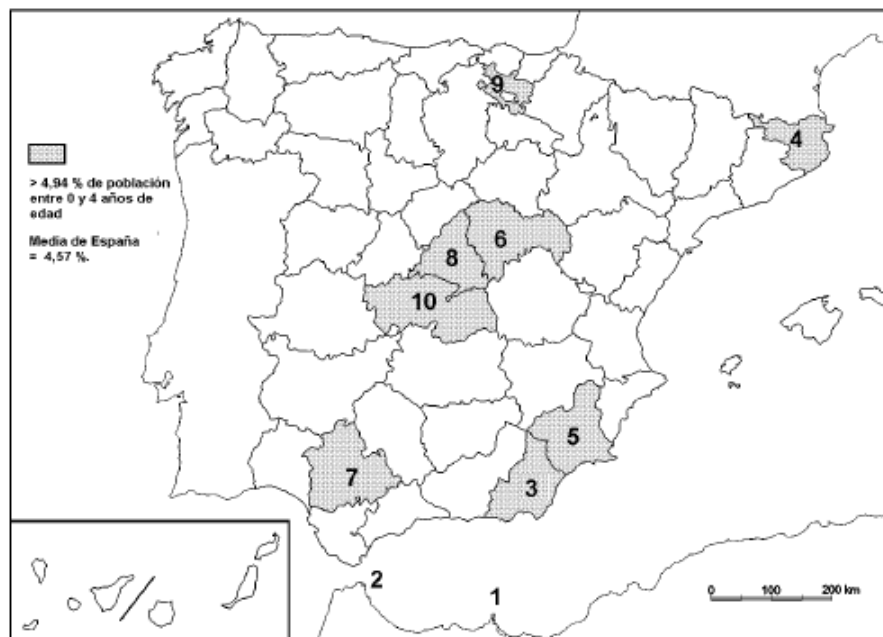


FUENTE: INEBASE.

5ª Parte: A la vista del mapa adjunto, "Porcentaje de población parada (2016)", indique el nombre de cada una de las provincias y de las ciudades autónomas numeradas y explique las posibles razones de esta distribución.

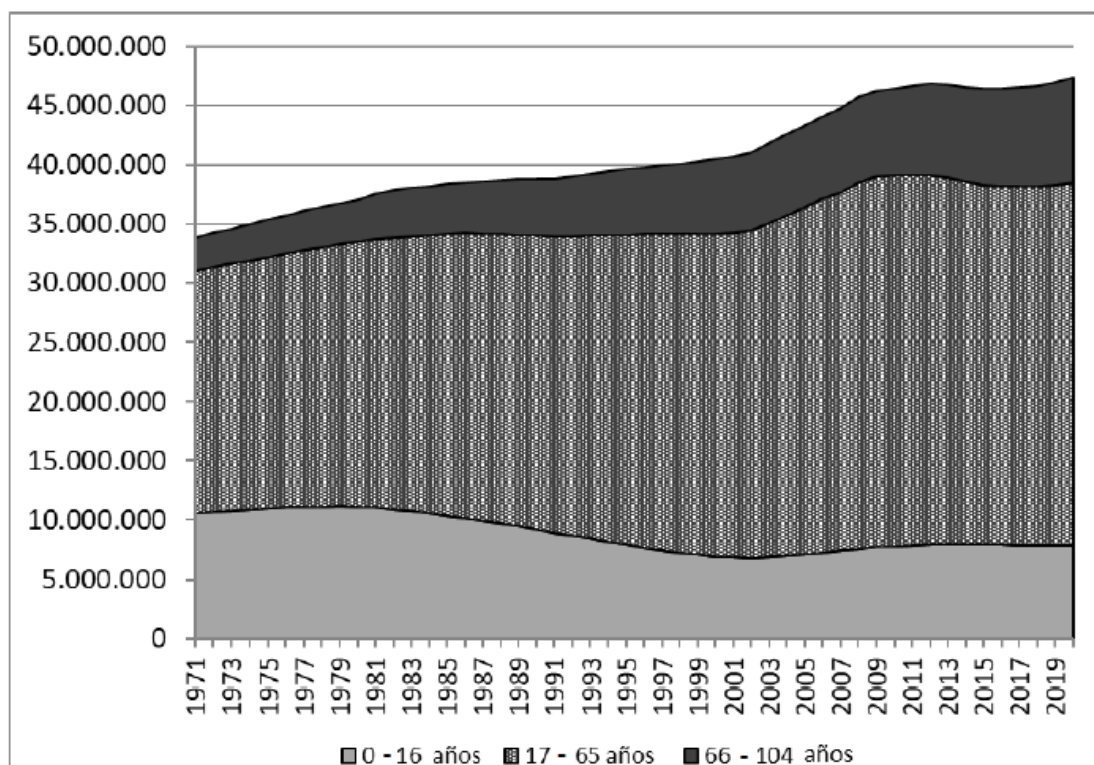


B.4. (2,5 puntos). A la vista del mapa adjunto “Porcentaje de población de 0 a 4 años (2017)”, indique el nombre de las provincias o ciudades autónomas numeradas, según proceda, y explique las posibles razones y el significado demográfico que pueda tener esta distribución.



Fuente INEbase.

A.3. (2,5 puntos). Comente y relacione la noticia con el gráfico adjunto “Evolución de la población española por grupos de edad, 1971-2019” con la noticia “La respuesta al oscuro invierno demográfico no se puede retrasar más”.



Texto:

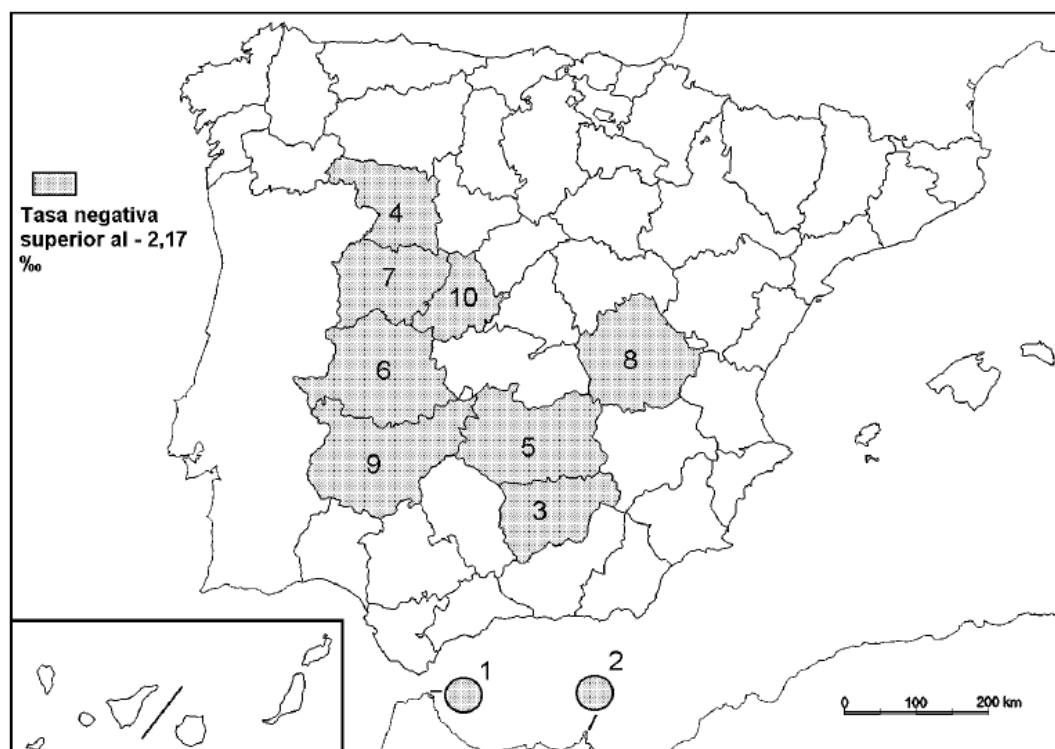
La respuesta al oscuro invierno demográfico no se puede retrasar más.

La irrupción de la pandemia del Covid-19 y la crisis económica desencadenada por las medidas para contenerla ha agravado el severo problema demográfico que arrastra España, que se explica por un conjunto heterogéneo de causas y tiene unas consecuencias financieras, económicas y sociales muy concretas. La combinación del progresivo hundimiento que ha experimentado la tasa de natalidad desde mediados de los años setenta –es la segunda más baja de Europa y una de las más reducidas del mundo– con una longevidad cada vez mayor ha generado una verdadera bomba de relojería demográfica para la sociedad española, una amenaza para el estado del bienestar y un complejo problema de sostenibilidad para la economía en general.

Cinco Días, 29 de octubre de 2020.

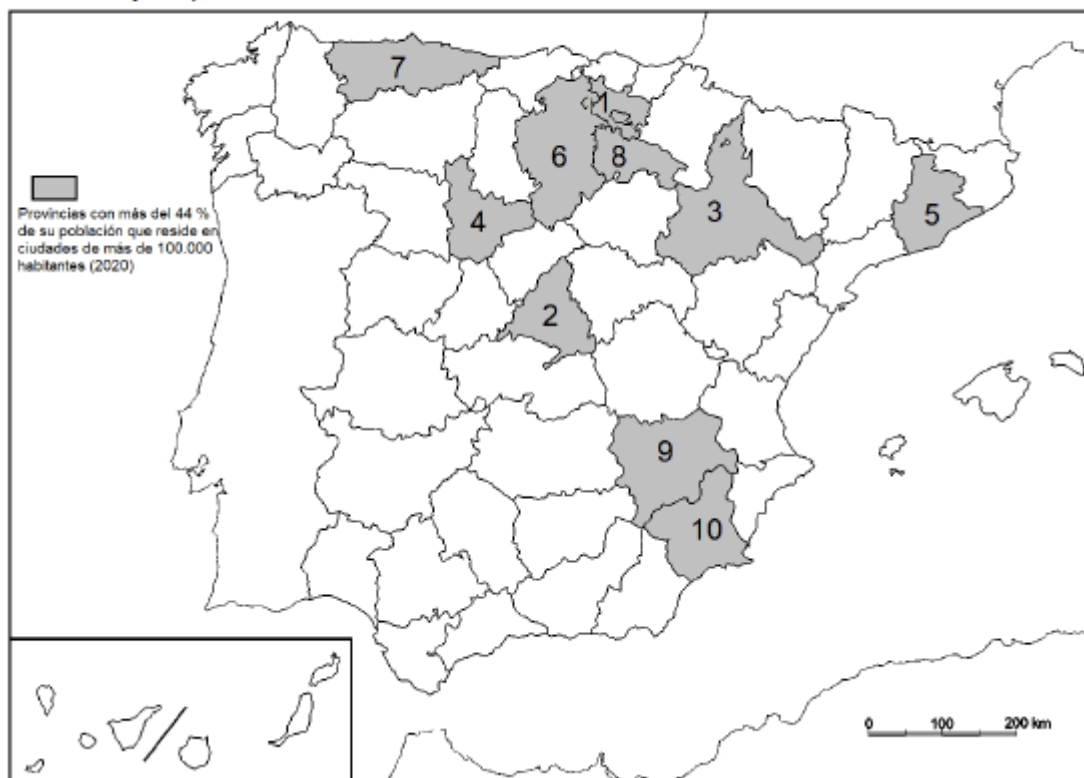
Fuente: https://cincodias.elpais.com/cincodias/2020/10/29/opinion/1603999119_350900.html

B.4. (2,5 puntos). A la vista del mapa “**migración interprovincial negativa (2019)**”, indique el nombre de las provincias y ciudades autónomas numeradas, y las características migratorias que explican este hecho.



Núm en Mapa	Tasa migración neta ‰
1	-19,72
2	-14,37
3	-3,76
4	-3,08
5	-3,07
6	-2,70
7	-2,54
8	-2,27
9	-2,24
10	-2,18

B.4. (2,5 puntos): A la vista del mapa adjunto: “Provincias con mayor porcentaje de población en ciudades de más de 100.000 habitantes”, indique el nombre de las provincias numeradas y las posibles razones de esta distribución.

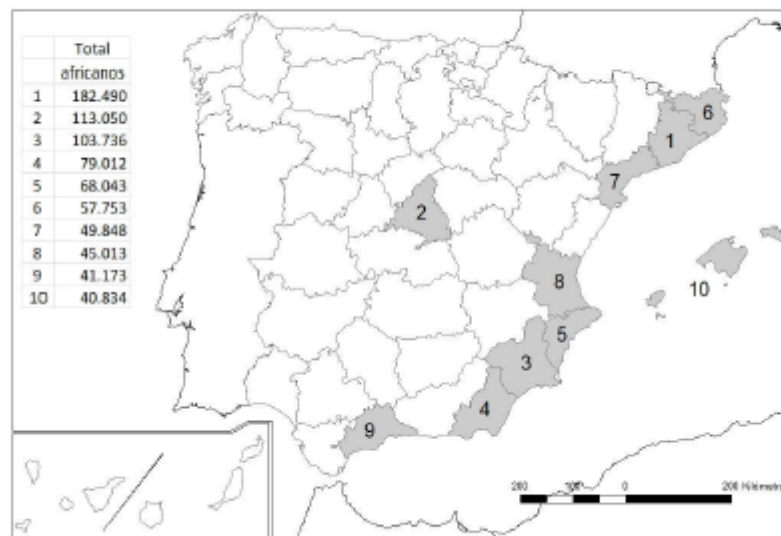


A.4. (2,5 puntos): A la vista del mapa y cuadro adjunto – “Provincias con mayor número de residentes británicos (2021)” – indique el nombre de las provincias numeradas y señale las posibles **causas** y qué **consecuencias sociales y económicas** se derivan de la distribución de este hecho demográfico.



Fuente: INE, 2021.

Mapa 2. “Provincias con mayor número de inmigrantes de origen africano (2021)”. Indique el nombre de las provincias numeradas y señale las posibles causas y qué consecuencias sociales y económicas se derivan de la distribución de este hecho.



Fuente: Instituto Nacional de Estadística (2023)

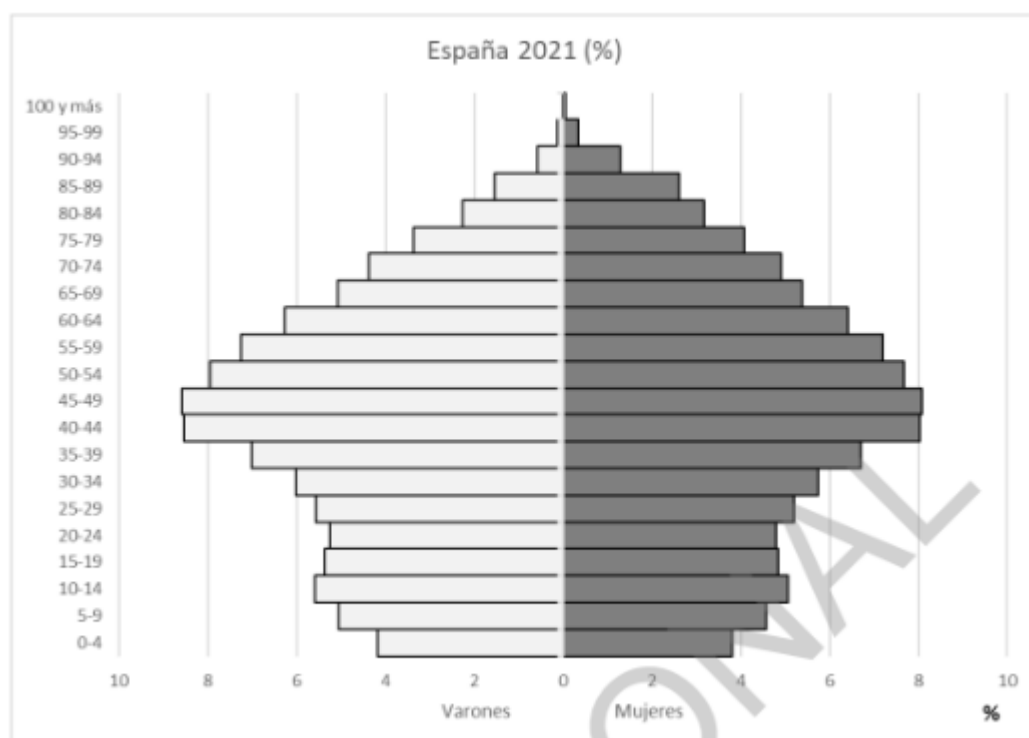
A.3. (2,5 puntos): A la vista de la noticia de prensa y del gráfico adjunto (**pirámide de población de España en 2021**), comente conjuntamente estos materiales, atendiendo a la composición por sexos y la estructura por edades, las causas que lo motivan y las consecuencias demográficas, sociales y económicas.

La población en España cae por primera vez desde 2016.

Las defunciones y un saldo migratorio casi nulo reducen el número de habitantes en 72.000 personas en la primera mitad de 2021.

La población en España ha descendido por primera vez en el último lustro. En los primeros seis meses de 2021, el número de habitantes se ha reducido en 72.007 personas hasta colocarse en 47.326.687 residentes, según ha revelado este jueves el Instituto Nacional de Estadística (INE). Esta bajada de población, inédita desde 2016, tiene dos causas, según el organismo. En primer lugar, que el número de defunciones ha sido superior al de nacimientos: 227.920 frente a 157.184. Y, en segundo, que el saldo migratorio ha sido casi nulo, es decir, que el número de personas que han emigrado desde España en este periodo ha sido prácticamente el mismo que el de las que han llegado al país.

elpais.com 21 de diciembre de 2021.



Fuente: INE.

B.4. (2,5 puntos): A la vista del mapa y cuadro adjunto: **“Provincias con mayor población de extranjeros procedentes de América (2021)”**, indique el nombre de las provincias numeradas y señale las posibles **causas** y qué **consecuencias** sociales y económicas se derivan de la distribución de este hecho demográfico.

